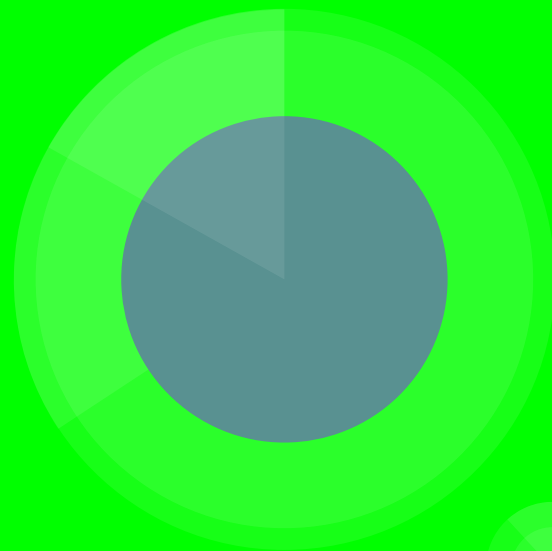


# Природные ресурсы, их использование и охрана

## Задание 4

ОГЭ по географии




**Уровень сложности:  
базовый**

**4. Природные ресурсы,  
их использование  
и охрана**


**Балл 1**

Код	Проверяемый элемент содержания	В программе какого класса изучается	Наличие данного элемента содержания в кодификаторе ОГЭ прошлых лет
7.2.7	Богатство растительного и животного мира России. Растения и животные, занесённые в Красную книгу России	8	+ <sup>5</sup>



# Задание содержат следующую информацию

## Заповедники

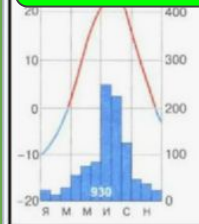


## занятия

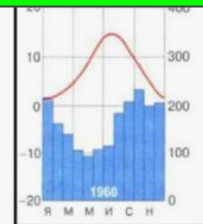
## Народы



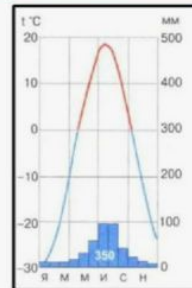
## климатограммы



1



2



3

## Справочный материал в решении задания на тему заповедники

1. Заповедник на острове Врангеля. В границах заповедника расположены родильные берлоги белого медведя. Для акклиматизации на остров были завезены северный олень и овцебык.
2. Командорский - уникальные лежбища морских млекопитающих (котиков) можно наблюдать в заповедниках Дальнего Востока.
3. Ильменский – минералы – Урал.
4. Кроноцкий - термальные источники и гейзеры (Камчатка).
5. Курильский – вулканы.
6. Таймырский, Большой Арктический, Ненецкий, Гыданский, Кандалакшский — тундра.
7. Лапландский - горно-тундровые экосистемы дикого северного оленя
8. Кандалакшский, Костомукшский, Тунгусский, Верхне-Тазовский, Центрально-Сибирский, Магаданский - тайга.
9. Баргузинский - основан на Байкале, соболь.
10. Усть - Ленский – дельта р. Лена, арктический климат.
11. Приокско-Тerrasный — смешанный и широколиственный лес, расположен в южной части Московской области на левом берегу Оки. Основная часть территории — леса, главным образом сосновые и смешанные с березой, елью, дубом и липой. + Окский

- 1.
2. Приокско-Террасный — смешанный и широколиственный лес, расположен в южной части Московской области на левом берегу Оки. Основная часть территории — леса, главным образом сосновые и смешанные с березой, елью, дубом и липой. + Окский
3. Ростовский, Воронежский, Оренбургский, Хоперский – степь, лесостепь.
4. Астраханский - в дельте р. Волга, лотос, степи, полупустыни.
5. Алтайский – Телецкое озеро, горы.
6. Уссурийский, Сихотэ-Алинский – амурский тигр.
7. Тебердинский, Кабардино-Балкарский — в горах Кавказа.
8. Зейский - елово-лиственничных лесов с элементами маньчжурской флоры.
9. Катунский – г. Алтай.
10. Богдинско - Баскунчакский – полупустыня, соленое озеро.

## Алгоритм решения задания 4

1. Внимательно прочитать задание.
2. Открыть атлас 8 кл по теме заповедники.
3. Найти все перечисленные в задании
4. Подтвердить или исключить ответ, при выборе верного.

### НАПРИМЕР:

Группа студентов из Санкт-Петербурга хочет посетить уникальные лежбища морских млекопитающих. Какой из перечисленных заповедников им необходимо посетить для проведения исследовательской работы?

- 1) Командорский
- 2) Тунгусский
- 3) Тебердинский
- 4) Печоро-Илычский

## Алгоритм решения задания 4

1. Внимательно прочитать задание.
2. Открыть атлас 8 кл по теме заповедники.
3. Найти все перечисленные в задании
4. Подтвердить или исключить ответ, при выборе верного.

НАПРИМЕР:

Группа студентов из Санкт-Петербурга хочет посетить уникальные лежбища морских млекопитающих. Какой из перечисленных заповедников им необходимо посетить для проведения исследовательской работы?

- 1) Командорский
- 2) Тунгусский
- 3) Тебердинский
- 4) Печоро-Ильчский

### **Пояснение.**

Уникальные лежбища морских млекопитающих можно наблюдать в заповедниках Дальнего Востока. Здесь расположены Командорские острова.

Правильный ответ указан под номером 1.

# Карта особо охраняемых природных территорий Российской Федерации



## Республики природные заповедники

1 Азас	26 Галичья гора	50 Костомукшский	75 Пикетский	89 Черные земли
2 Алтайский	27 Гудинский	51 Кронцикий	76 Гуртовский	90 Шайтан-тау
3 Астраханский	28 Дагестанский	52 Крымский	77 Рейский	91 Шуган-Таш
4 Байкало-Ленский	29 Дальневосточный морской	53 Кузнецкий Алатау	78 Ростовский	92 Эри
5 Байкальский	30 Дауринский	54 Курский	79 Сельо-Шушенский	93 Юганский
6 Баргузинский	31 Даринский	55 Лаосский	80 Северо-Осетинский	94 Южно-Уральский
7 Баскун	32 Даурский	56 Лапидарский	81 Омско-Алтайский	
8 Бастак	33 Девония Кавказ	57 Магаданский	82 Сохондский	
9 Башкирский	34 Девриенский	58 Малая Сосва	83 Столбы	
10 Белогорье	35 Дюжидурский	59 Мордовский	84 Таймырский	
11 Бодунско-Богунский	36 Жигулеский	60 Ненецкий	85 Тебердинский	
12 Болонеский	37 Зейский	61 Нижне-Саянский	86 Тигринский	
13 Большая Кочка	38 Ильинский	62 Норский	87 Тулунский	
14 Большеземельский	39 Кабардино-Балкарский	63 Нургуш	88 Убунурская котловина	
15 Большой Ахунский	40 Кабардинский	64 Осский	89 Уссурийский	
16 Большой	41 Каргужеский	65 Орловский	90 Усть-Ленинский	
17 Бренский лес	42 Караульские заповедники	66 Орловский	91 Утриш	
18 Буренский	43 Катунский	67 Остров Волжети	92 Пасаж	
19 Верхне-Тазовский	44 Кедровая падь	68 Печоро-Ильинский	93 Кавказский	
20 Вилюиский	45 Керченский	69 Пинежский	94 Хинганский	
21 Витимский	46 Кивач	70 Платостовский	95 Холерский	
22 Вишерский	47 Колгирский лес	71 Покровский	96 Центрально-Лесной	
23 Волго-Камский	48 Командорский	72 Приволжский	97 Царьково-Лесной	
24 Воронский	49 Комсомольский	73 Приволжская лесостепь	98 Чертановский	
25 Воронежский	50 Комский	74 Приамурский	99 Чирковский	

Неческий	Алания
Николаи Камы	Алаверди
Онежское Плато	Анхойский
Орловское Плато	Вашиния
Панаяры	Берингия
Плещеево озеро	Бузудский Бор
Приволжский	Валдайский
Приморский	Водлозерский
Ростовский	Забайкальский
Самарский	Земля леопарда
Сарайлинский	Зов тигра
Саяно-Алтайский	Зерцаль
Саяно-Алтайский	Сайлагонский
Саяно-Алтайский	Самарская Луна
Саяно-Алтайский	Шамарское озеро
Саяно-Алтайский	Шорский
Саяно-Алтайский	Шушенский Бор
Саяно-Алтайский	Юнга ва
Саяно-Алтайский	Мещеря
Саяно-Алтайский	Мещеря
Саяно-Алтайский	Сочинский

7 Танай
8 Тульский
9 Урга
10 Удольская дельта
11 Хвалынский
12 Чавычье водохранилище
13 Чивий
14 Шамарское озеро
15 Шорский
16 Шушенский Бор
17 Юнга ва

18 Алаверди	22 Елизаветинский	36 Карачаевский	50 Кавказский
19 Алтунский	23 Елгульский	37 Карачаевский	51 Кавказский
20 Алаверди	24 Елгульский	38 Карачаевский	52 Кавказский
21 Алаверди	25 Елгульский	39 Карачаевский	53 Кавказский
22 Алаверди	26 Елгульский	40 Карачаевский	54 Кавказский
23 Алаверди	27 Елгульский	41 Карачаевский	55 Кавказский
24 Алаверди	28 Елгульский	42 Карачаевский	56 Кавказский
25 Алаверди	29 Елгульский	43 Карачаевский	57 Кавказский
26 Алаверди	30 Елгульский	44 Карачаевский	58 Кавказский
27 Алаверди	31 Елгульский	45 Карачаевский	59 Кавказский
28 Алаверди	32 Елгульский	46 Карачаевский	60 Кавказский
29 Алаверди	33 Елгульский	47 Карачаевский	61 Кавказский
30 Алаверди	34 Елгульский	48 Карачаевский	62 Кавказский
31 Алаверди	35 Елгульский	49 Карачаевский	63 Кавказский

101 Южно-Уральский	102 Эри	103 Юганский
--------------------	---------	--------------

104 Южно-Уральский	105 Эри	106 Юганский
--------------------	---------	--------------

107 Южно-Уральский	108 Эри	109 Юганский
--------------------	---------	--------------

110 Южно-Уральский	111 Эри	112 Юганский
--------------------	---------	--------------

113 Южно-Уральский	114 Эри	115 Юганский
--------------------	---------	--------------

116 Южно-Уральский	117 Эри	118 Юганский
--------------------	---------	--------------

119 Южно-Уральский	120 Эри	121 Юганский
--------------------	---------	--------------

122 Южно-Уральский	123 Эри	124 Юганский
--------------------	---------	--------------

125 Южно-Уральский	126 Эри	127 Юганский
--------------------	---------	--------------

128 Южно-Уральский	129 Эри	130 Юганский
--------------------	---------	--------------

131 Южно-Уральский	132 Эри	133 Юганский
--------------------	---------	--------------

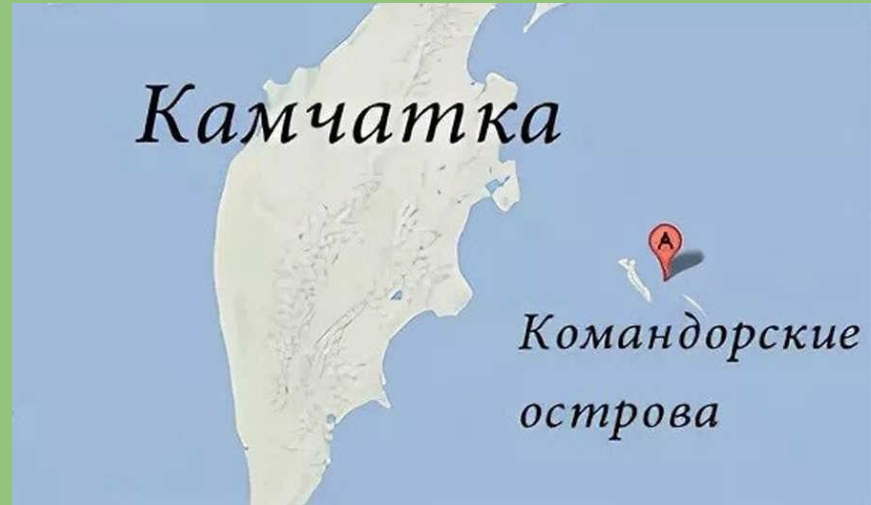
Группа студентов из Санкт-Петербурга хочет посетить уникальные лежбища морских млекопитающих. Какой из перечисленных заповедников им необходимо посетить для проведения исследовательской работы?

- 1) Командорский
- 2) Тунгусский
- 3) Тебердинский
- 4) Печоро-Илычский

## Пояснение.

Уникальные лежбища морских млекопитающих можно наблюдать в заповедниках Дальнего Востока. Здесь расположены Командорские острова.

Правильный ответ указан под номером 1.



К традиционным занятиям какого из перечисленных народов России относятся резьба по кости морского зверя и рыболовство?

1) татары

2) чукчи

3) буряты

4) карачаевцы



## Справочный материал при решении заданий на тему Народы и занятия

- Многочисленные народы России: **русские, татары.**
- Народы на **Европейском Севере**: ненцы, коми, карелы
- Оленеводство и рыболовство, резьба по кости - традиционные занятия жителей **Севера** - **эвены, эвенки, чукчи, ненцы, энцы, коряки, эскимосы, алеуты (чум).**
- Пашенное земледелие, вышивка, резьба по дереву, изготовление металлических украшений – **мордва, чувашаи, марийцы.**
- Пастбищное овцеводство, коневодство и верблюдоводство - **калмыки (юрта).**
- Разведение овец и коз - традиционное занятие жителей горных и полупустынных пастбищ – **карачаевцы, народы Дагестана.**

К традиционным занятиям какого из перечисленных народов России относятся резьба

по кости морского зверя

и рыболовство?

1) татары

2) чукчи

3) буряты

4) карачаевцы

**Пояснение.**

Резьба по кости — традиционные занятия жителей Севера. Из северных народов — чукчи.

Правильный ответ указан под номером 2.



К традиционным занятиям какого из перечисленных народов России относится пастбищное животноводство (овцеводство, коневодство и верблюдоводство)?

- 1) карелы
- 2) марийцы
- 3) коми
- 4) калмыки



К традиционным занятиям какого из перечисленных народов России относится пастбищное животноводство

(овцеводство, коневодство и верблюдоводство)?

- 1) карелы
- 2) марийцы
- 3) коми
- 4) калмыки

### **Пояснение.**

Овцеводство, коневодство и верблюдоводство

традиционно развивалось в засушливых

условиях полупустынных пастбищ.

Жители этих районов — калмыки.

Правильный ответ указан под номером 4.



**КАЛМЫКИ**

**Верблюды живут в засушливых регионах мира — пустынях, полупустынях и степях. Они не могут жить в местностях с влажным климатом или в горах.**



Коренной народ	Традиционное занятие
ненцы	оленоводство, охота и рыболовство
эвены	оленоводство, охота и рыболовство
эскимосы	промысел морского зверя, рыболовство, морской зверобойный промысел
чукчи	промысел морского зверя, рыболовство, резьба по кости, морской зверобойный промысел, оленеводство
калмыки	пастбищное животноводство (овцеводство, конеодство, верблюдоводство)
мордва	пашенное земледелие, вышивка, резьба по дереву, изготовление металлических украшений
чувашаи	земледелие



К традиционным занятиям какого из перечисленных народов России относятся пашенное земледелие, вышивка, резьба по дереву, изготовление металлических украшений?

- 1) чукчи
- 2) коряки
- 3) ненцы
- 4) мордва



К традиционным занятиям какого из перечисленных народов России относятся пашенное земледелие, вышивка, резьба по дереву, изготовление металлических украшений?

- 1) чукчи
- 2) коряки
- 3) ненцы
- 4) мордва

Пояснение.

Чукчи, коряки и ненцы — коренные народы, проживающие в условиях тундры, где не могли развиваться эти виды деятельности.

Правильный ответ указан под номером 4.



Группа туристов из США хочет своими глазами увидеть природу сибирской тайги и посмотреть окрестности уникального озера Байкал. Какой из перечисленных заповедников им необходимо для этого посетить?

- 1) Тунгусский
- 2) Баргузинский
- 3) Буреинский
- 4) Дагестанский



Группа туристов из США хочет своими глазами увидеть природу сибирской тайги и посмотреть окрестности уникального озера Байкал. Какой из перечисленных заповедников им необходимо для этого посетить?

- 1) Тунгусский
- 2) Баргузинский
- 3) Буреинский
- 4) Дагестанский

**Пояснение.**

Баргузинский заповедник основан на Байкале.

Правильный ответ указан под номером 2.



Группа студентов из Волгограда занимается изучением малонарушенных горных экосистем во всем их многообразии на стыке природных зон, а также редких видов фауны: гималайского медведя и амурского тигра. Какой из перечисленных заповедников им необходимо посетить для проведения исследовательской работы?

- 1) Магаданский
- 2) Уссурийский
- 3) Астраханский
- 4) Таймырский



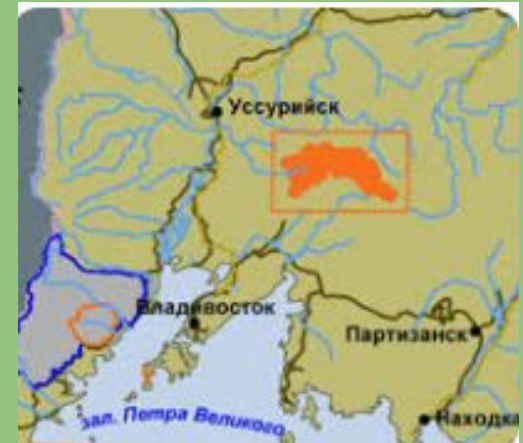
Группа студентов из Волгограда занимается изучением малонарушенных горных экосистем во всем их многообразии на стыке природных зон, а также редких видов фауны: гималайского медведя и амурского тигра. Какой из перечисленных заповедников им необходимо посетить для проведения исследовательской работы?

- 1) Магаданский
- 2) Уссурийский
- 3) Астраханский
- 4) Таймырский

**Пояснение.**

Уссурийский заповедник на юге Дальнего Востока. Именно в нем можно обнаружить эти особенности.

Правильный ответ указан под номером 2.



Определите, к традиционным занятиям каких из перечисленных народов России относятся оленеводство, охота и рыболовство.

- 1) башкиры и чувашаи
- 2) эвены и ненцы
- 3) мордва и тувинцы
- 4) калмыки и марийцы



Определите, к традиционным занятиям каких из перечисленных народов России относятся оленеводство, охота и рыболовство.

- 1) башкиры и чувашаи
- 2) эвены и ненцы
- 3) мордва и тувинцы
- 4) калмыки и марийцы

**Пояснение.**

Оленеводство, охота и рыболовство — традиционные занятия жителей Севера. Из перечисленных к ним относятся эвены и ненцы.

Правильный ответ указан под номером 2.



Определите, к традиционным занятиям каких из перечисленных народов России относятся оленеводство, охота и рыболовство.

- 1) башкиры и чувашаи
- 2) эвены и ненцы
- 3) мордва и тувинцы
- 4) калмыки и марийцы



Определите, к традиционным занятиям каких из перечисленных народов России относятся оленеводство, охота и рыболовство.

- 1) башкиры и чувашаи
- 2) эвены и ненцы
- 3) мордва и тувинцы
- 4) калмыки и марийцы

**Пояснение.**

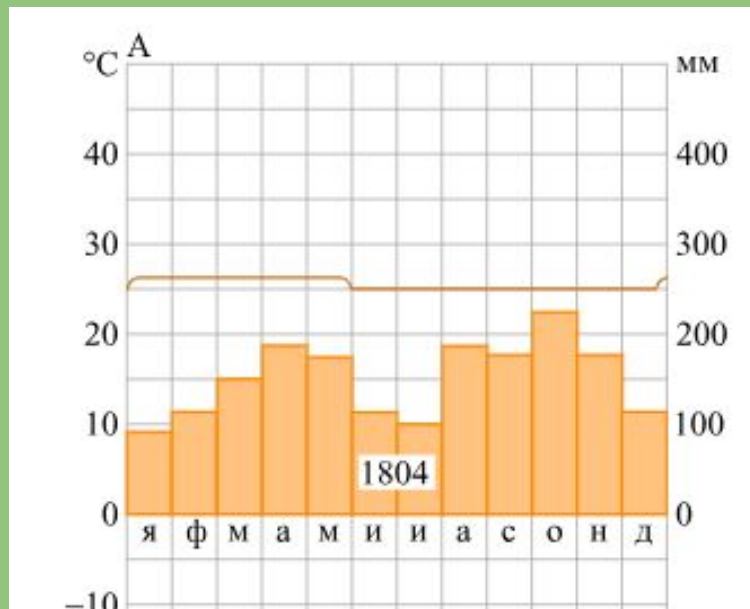
Оленеводство, охота и рыболовство — традиционные занятия жителей Севера. Из перечисленных к ним относятся эвены и ненцы.

Правильный ответ указан под номером 2.



Используя данные климатограммы, определите верное утверждение о климате пункта А.

- 1) Самый теплый месяц в году — октябрь.
- 2) В январе атмосферных осадков выпадает больше, чем в октябре.
- 3) Среднемесячные температуры воздуха имеют только положительные значения.
- 4) Среднегодовое количество атмосферных осадков составляет менее 800 мм.

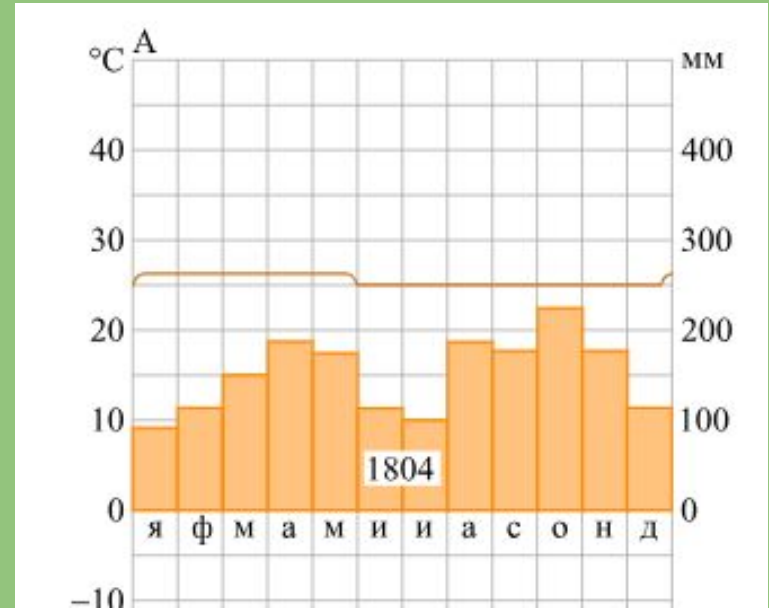


- 1) Самый теплый месяц в году — октябрь.
- 2) В январе атмосферных осадков выпадает больше, чем в октябре.
- 3) Среднемесячные температуры воздуха имеют только положительные значения.
- 4) Среднегодовое количество атмосферных осадков составляет менее 800 мм.

**Пояснение.**

Для выбора правильного ответа надо вспомнить, как составляют климатограммы. Вертикальных осей со значениями здесь две. На левой дана температура воздуха в градусах, на правой — месячное количество осадков в миллиметрах. Линия графика показывает годовой ход температуры воздуха, столбики — месячное количество осадков. Анализ диаграммы показывает, что верно определение «Среднемесячные температуры воздуха имеют только положительные значения». На графике средние температуры колеблются около двадцати пяти градусов Цельсия.

Правильный ответ указан под номером 3.



К традиционным занятиям народов какого из перечисленных регионов России относится пастбищное овцеводство?

- 1) Республика Карелия
- 2) Республика Дагестан
- 3) Чукотский АО
- 4) Ненецкий АО



К традиционным занятиям народов какого из перечисленных регионов России относится пастбищное овцеводство?

- 1) Республика Карелия
- 2) Республика Дагестан
- 3) Чукотский АО
- 4) Ненецкий АО

**Пояснение.**

Пастбищное овцеводство характерно для полупустынных районов Калмыкии и горного Дагестана.

Правильный ответ указан под номером 2.



## Рефлексия

За одну встречу я узнал.....  
А ещё научился(лась).....  
В целом я конечно.....  
Встреча получилась.....

**ОГО!!!**  
**Встреча подошла к концу!!**

